

哈三中 2020-2021 学年度上学期高三年级期末考试

文科综合能力测试

本试卷分第 I 卷(选择题)和第 II 卷(非选择题),共 46 题,满分 300 分,考试时间 150 分钟,共 13 页,考试结束后,将本试卷和答题卡一并交回。

注意事项:

1. 答题前,考生先将自己的姓名、准考证号填写清楚。
2. 选择题必须使用 2B 铅笔填涂;非选择题必须使用 0.5 毫米黑色字迹的签字笔书写,字体工整,字迹清楚。
3. 请按照题号顺序在各题目的答题区域内作答,超出答题区域书写的答案无效;在草稿纸、试题卷上答题无效。
4. 保持卡面清洁,不得折叠,不要弄破、弄皱,不准使用涂改液、刮纸刀。

第 I 卷(选择题 共 140 分)

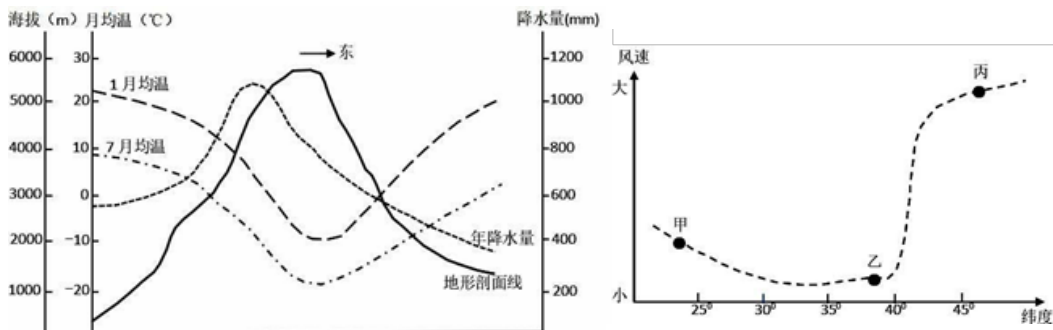
一、选择题:本题共 35 小题,每小题 4 分,共 140 分。在每个小题给出的四个选项中,只有一项是符合题目要求的。

下图示意我国某新能源汽车企业发展历程。据此完成 1-2 题。



1. 该企业在进入汽车领域的第 3 年就推出纯电动轿车主要得益于
 - A. 市场需求量大
 - B. 核心部件生产经验丰富
 - C. 汽车组装基础好
 - D. 劳动力素质高
2. 2010 年该企业与德国车企戴姆勒合作主要为了
 - A. 拓展德国市场
 - B. 增强两国友谊
 - C. 提高产品质量
 - D. 降低生产成本

下左图分别为某大洲大陆西岸地形、气温和降水沿东西方向的变化示意图;下右图为该大洲西海岸某月风速沿南北方向变化示意图,据此完成 3-4 题。



3. 根据左图信息可知，该山地
- A. 西坡山麓为森林植被；东坡山麓为荒漠草原植被
 - B. 东坡为迎风坡，年降水量大于西坡
 - C. 位于南半球，处于太平洋板块与美洲板块的消亡边界处
 - D. 东坡 3000 米降水量约为 700 毫米，西坡沿海受暖流的影响降水丰富
4. 右图该月份乙地的气候特征为
- A. 寒冷干燥
 - B. 高温多雨
 - C. 炎热干燥
 - D. 温和多雨

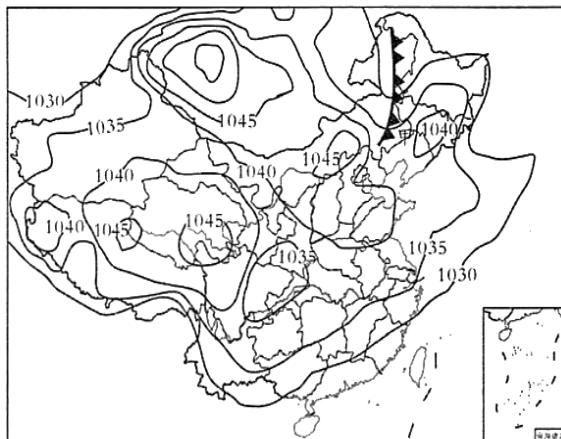
下图为 2019 年 12 月 14 日 9 时亚洲部分地区海平面气压形势图。回答 5-6 题。

5. 该日，有关我国下列地区天气叙述正确的是

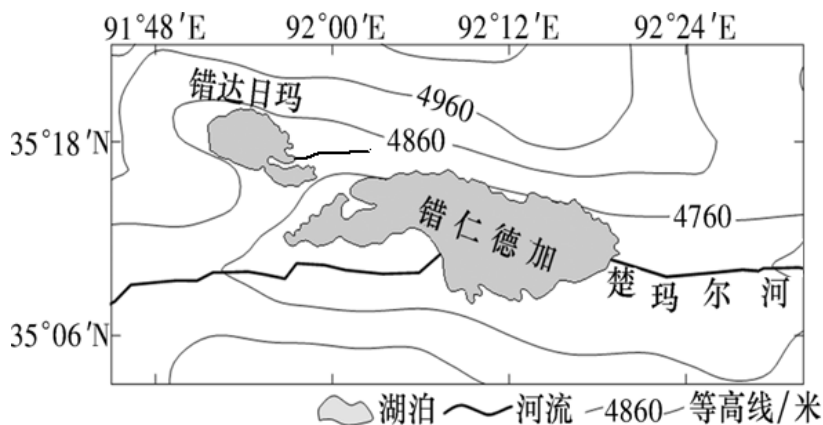
- A. 山东南部受寒潮影响
- B. 辽宁东北降雪、降温
- C. 山东境内风力较大
- D. 四川中东部局部有降水

6. 未来两三天，甲地的天气变化可能为

- A. 晴空万里
- B. 增温、降雨
- C. 气压将升高
- D. 连绵的阴雨

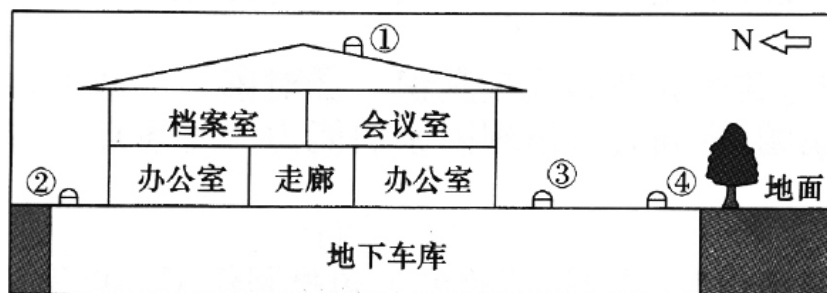


下图是青海省西南部的两个高原湖泊，都位于同一个板块上。错仁德加位于楚玛尔河的干流上，而错达日玛湖相对封闭，四周有河流注入。近年来，错达日玛湖床升高速度明显快于错仁德加。回答 7-8 题。



7. 与错仁德加相比，错达日玛湖水
- A. 水位更低
 - B. 盐度更大
 - C. 水温更高
 - D. 更新更快
8. 错达日玛湖床升高速度明显快于错仁德加，其主要原因是
- A. 板块运动不同
 - B. 湖水深度不同
 - C. 植被覆盖不同
 - D. 外力作用不同

光导照明系统通过采光器获取室外的自然光线，经过特殊制作的导光管进行传输，再由漫射器照射到需要光线的室内。为了提高照明效果，室外的采光器往往需要清洗和维护。下图为我国某建筑的结构示意图。读图完成 9-11 题。



我国某建筑结构示意图

9. 通往地下车库的室外采光器，最佳的安装位置是
 - A. ①
 - B. ②
 - C. ③
 - D. ④
10. 该建筑的地上部分应该优先安装漫射器的功能区是
 - A. 档案室
 - B. 会议室
 - C. 办公室
 - D. 走廊
11. 从社会经济条件和区域能源状况来看，光导照明系统最适宜推广的省份是
 - A. 新疆
 - B. 黑龙江
 - C. 广东
 - D. 山西
12. 2020 年国家医保药品谈判准入结果正式公布。其中 3 个创新研发成本较高的抗癌药，尤其是 PD-1 单抗产品全部入围，药价平均降幅超 50%，药品支付标准同步确定，患者支出减免近 70%，新冠肺炎治疗药品及 16 种今年新上市药品均被纳入国家医保目录。预计 2021 年可累计为患者减负约 280 亿元。医保谈判之所以取得成功，原因可能是
 - ①医保谈判可以使企业效益最大化，驱动谈判取得成功
 - ②医保谈判可以“以量换价”，达到影响价格的目的
 - ③只有进入医保目录，药品才能上市销售，企业无从选择
 - ④企业效率提高，使得药品成本可以支撑价格下降
 - A. ①②
 - B. ②④
 - C. ①④
 - D. ②④
13. 近日直播带货涉嫌造假问题频出，备受社会关注。先有被称为“快手一哥”的主播“辛巴”被指售卖燕窝为糖水。近日又有媒体曝光罗永浩所售漱口水涉嫌虚假宣传，以及其被质疑在直播间卖山寨鞋、假羊毛衫。“直播带货”行业如何健康发展成为亟需解决的问题，对此认识正确的有
 - A. 直播从业人员不是产品生产者，无需为产品质量负责
 - B. 直播从业人员必须懂得，商品价值是商品质量的载体
 - C. 直播从业人员售假是市场盲目性的表现，应该立法整顿
 - D. 直播从业人员应自觉承担社会责任，维护市场秩序健康
14. 2020 年 12 月 26 日，人民银行、银保监会等金融管理部门联合约谈蚂蚁集团引发社会关注。近期中央政治局会议、中央经济工作会议对强化反垄断和防止资本无序扩张等作出了一系列重要部署，对做好相关金融管理工作提出了明确要求。金融管理部门将以此为根本遵循，依法依规监管金融市场主体，严肃查处违法违规行为，强化约束资本无序扩张。国家重拳监管金融科技企业

- ①将规范金融科技和平台企业的健康发展，维护公平竞争和金融市场秩序
 - ②将敦促蚂蚁集团等金融科技企业自觉遵守法律法规，切实把社会责任置于首位
 - ③有利于金融科技企业按照市场化、法治化原则，落实金融监管，规范垄断
 - ④有利于鼓励、支持金融科技企业在服务实体经济和遵从监管的前提下守正创新
- A. ①② B. ②③ C. ①④ D. ②④

15. 2020年12月17日，嫦娥五号载着最新鲜的1731克月壤顺利归来。虽然这些月壤不能种植土豆，但因为月壤里可能含有一个从太阳上产生的未来宇宙能源物质——氦三，以及还可能含有很多贵重的其他元素，而这些都具备非常高的科研和经济价值。月壤研究对我国可能产生的经济影响是

- ①氦三是未来能源，如果能够聚变发电，将具有低污染高能效的经济价值
 - ②月壤研究有利于我们了解太空，宣誓月球主权，争夺太空主导权
 - ③通过月壤分析形成更多的科研成果，将有利于今后建设月球站、采矿点、矿场等
 - ④有利于提升我国的综合国力和国际竞争力，增强民族自尊心自信心
- A. ①② B. ①③ C. ③④ D. ②④

16. 国际新冠肺炎疫情形势依然复杂且病毒传播方式趋于多样化，在2021年元旦来临之际，哈尔滨市疾控中心提醒广大市民尽量减少聚会、聚餐，提高防范意识。为此哈市各中小学坚决响应号召停止举办新年联欢会，同学们在纷纷表达深感遗憾的同时也表示了充分地理解，并积极做好个人防护工作。同学们的举动

- ①正确处理了公民权利与义务的关系
 - ②自觉把集体利益放在首位
 - ③积极履行了政治性义务
 - ④积极履行了民主权利
- A. ①② B. ②④ C. ①④ D. ②④

17. 2020年12月11日，第四届国家数据与治理高峰论坛在广东召开。本次论坛围绕“数字+焕启新未来”主题，深入探讨数据资源在促进治理现代化过程中的使用机制和方式，研讨推动数字政府、数字经济和数字社会建设中数据治理的方法、路径、政策和机制等问题，加速推进国家治理体系和治理能力的现代化。上述材料说明

- ①政府治理要重视数据要素，发挥市场决定性作用
 - ②政府治理要不断创新方式，坚持与时俱进
 - ③政府治理要以数据要素为中心，推进治理能力现代化
 - ④政府治理要符合时代要求，加强信息化政府建设
- A. ①② B. ②③ C. ③④ D. ②④

18. 2020年11月21日，在G20领导人峰会上，习近平主席发表了题为《戮力战疫 共创未来》的重要讲话。习主席建议构筑全球抗疫防火墙，做好各自疫情防控，加强交流合作，并向其他国家施以援手。支持世卫组织协调整合资源，公平有效分配疫苗，并表示中国愿同各国加强合作，努力让疫苗成为各国人民用得上、用得着的公共产品。这体现了

- A. 中国政府坚定维护和平发展的外交基本立场
- B. 中国政府维护各国共同利益的根本出发点
- C. 中国政府致力于人类命运共同体的建设
- D. 中国政府在全球抗疫斗争中发挥主导作用

19. 10月23日, 习近平总书记在纪念中国人民志愿军抗美援朝70周年大会上指出, 在波澜壮阔的抗美援朝战争中, 英雄的中国人民志愿军锻造了伟大抗美援朝精神。我们要弘扬这种精神, 雄赳赳、气昂昂, 向着全面建设社会主义现代化国家新征程, 向着实现中华民族伟大复兴的中国梦继续奋勇前进。伟大的抗美援朝精神

- ①源于人们的爱国情感, 蕴藏着巨大的精神力量
- ②会随着时代的发展而丰富和改进其基本内涵
- ③跨越时空、历久弥新, 必须永续传承、世代发扬
- ④是民族精神的组成部分, 蕴含中华儿女共同的价值追求

A. ①② B. ①③ C. ②④ D. ③④

20. 今年大火的电影《我和我的家乡》采用了多个单元故事的手法, 讲述了发生在中国东南北中大地上的五个令人啼笑皆非的故事, 每一单元都不是单纯地为了刻意逗观众笑而是通过一个个发生在个人身上的故事, 在欢乐的气氛中唤醒了人们对家乡的情怀与忆, 展现了近年来中国社会家乡飞速发展的缩影。这给我们的启示是

- ①立足社会实践, 是文化创作的基本要求
- ②文艺要坚持以人民为中心的创作导向
- ③体现时代精神是文化创新的重要根基
- ④要发挥大众传媒选择、传递、创造文化的功能

A. ①② B. ①③ C. ②④ D. ③④

21. 阅读漫画《爬上峰巅的人, 往往会忘掉自己真正的高度》, 此观点

- ①说明了价值判断和价值选择受主客观因素影响
- ②体现意识活动具有能动性
- ③犯了客观唯心主义的错误
- ④属于不可知论

A. ①② B. ①④ C. ②③ D. ③④



22. 今年, 我国的核聚变技术取得重大突破, 12月4日, 中国新一代“人造太阳”装置——环流器二号M装置实现首次放电, 这是我国目前规模最大、参数最高的托卡马克装置, 标志着我国自主创新领域的重大进步, 对我国未来能源与国民经济的可持续发展具有重大战略意义。材料表明

- ①根据规律的特点利用规律, 能造福人类
- ②人们在实践中不断推翻原有的真理性认识, 推动认识发展
- ③按规律办事就不能改变其发生作用的条件和形式
- ④人的实践活动是历史的发展着的

A. ①② B. ①④ C. ②③ D. ③④

23. 12月22日, 十三届全国人大常委会对《中华人民共和国反食品浪费法(草案)》提请审议。这是保障粮食安全的必要举措。今年全球新冠肺炎疫情所带来的影响也给我们敲响了警钟, 需要通过立法整治浪费行为, 为粮食安全保驾护航。这同时也是节约资源、保护环境, 促进经济社会可持续发展的重要举措。材料体现的历史唯物主义道理是

- ①有什么样的社会存在就有什么样的社会意识
- ②物质决定意识, 要求我们一切从实际出发, 主观符合客观

③生产关系一定要适合生产力发展状况

④上层建筑一定要适合经济基础发展状况

A. ①②

B. ①④

C. ②③

D. ③④

24. 郑国因护送平王东迁有功而与王室关系密切，此后周平王想启用虢公为卿士，但遭到郑国反对。平王为取信于郑国与郑庄公交换太子为人质，史称周郑交质。这反映出

A. 郑庄公为春秋首霸

B. 周郑地位平等

C. 周郑双方注重信义

D. 王室地位下降

25. 汉武帝时期，在各地分设盐官 37 处，铁官 49 处，严禁私人染指盐铁行业，这一做法的目的是

A. 增加国家财政收入

B. 与无为而治思想相配合

C. 提高商人政治地位

D. 解决皇权与相权的矛盾

26. 下表为入仕群体中寒门子弟所占比例变化表，造成表中比例变化的主要原因是

朝代	曹魏	西晋	东晋	隋	唐	北宋
比例	26%	15%	4%	17.2%	24.5%	46.1%

A. 选官制度的变革

B. 儒学地位的动摇

C. 自然经济的发展

D. 国家疆域的变迁

27. 明朝初期，人们的服装朴实简约甚至刻板，晚明时期，小康人家衣饰上无大红色不穿，就连婢女也非大红衣饰不可，一些教坊司乐工的穿戴竟与朝臣无异。这说明

A. 君主专制不断强化

B. 经济变动带来风尚变迁

C. 中央集权不断弱化

D. 宋明理学影响日常生活

28. 公元前 440 年，雅典城邦的司库官被控挪用公款，在未经详细调查的情况下，公民大会便将其中十位成员判处死刑。当钱的去向被查明并证明司库官无罪的时候，其中九人已经被处死，只有一人得以幸免。这表明雅典

A. 公民大会有司法权

B. 司库官被公民监督

C. 民主政治趋于完善

D. 公民集体缺乏理性

29. 古罗马的裁判官曾告示：“如果有人提出诈骗的指控，并且不提出任何其他诉讼，如果所指控诈骗发生时间不超过一年，我将允许提起诉讼。”而这类告示可作为诉讼的依据。这类告示

A. 巩固了罗马帝国统治

B. 标志着罗马法的完备

C. 具有相应的法律效力

D. 彰显了裁判官的独裁

30. 文艺复兴时期，拉丁文仍然是主科，但拉丁文的学习有了许多新的目的。学生学习拉丁文是为了能阅读史诗、演讲、历史及哲学等古典著作，这些著作作为受教育者提供了实用的经验、道德的力量。这反映了当时的教育

A. 蕴含人文主义思想观念

B. 注重培养人的职业技能

C. 以复兴古典文化为目的

D. 摆脱了宗教观念的束缚

31. 1575 年，西班牙官员向国王菲利普二世报告时说，“中国各种货物的价格，低廉到几乎等于不用货币购买那样”。中国的产品贩运到马尼拉能获 100% 的利润，而马尼拉大帆船将其贩运到美洲，获利润仍可高达 100%—300%。这一现象的出现，主要是因为

A. 西班牙在美洲的殖民掠夺

B. 世界市场形成与发展

C. 中国推行闭关锁国的政策

D. 中国手工业相对落后

32. 伏尔泰的《牛顿哲学原理》一书以故事的形式阐发牛顿的思想，描绘牛顿所遵循的科学方法和原则。他声称该书不是为聪明人设计的，而是为他自己也荣幸属于的那个无知平民阶层设计的。此举主要意在
- A. 鼓励法国民众投身自然科学研究 B. 推动理性主义的广泛传播
C. 阐述自然科学与社会发展的关系 D. 以自然科学抨击宗教神学
33. 工业革命时期，人们的休闲活动逐渐丰富，酒馆、咖啡馆、戏院、展览馆、博物馆、体育场等都成了许多人光顾的地方。这反映出当时欧美
- A. 工业化生产普遍确立 B. 工人福利得到保障
C. 城市化程度逐渐提高 D. 贫富差距逐渐消除
34. 在 1787 年制宪会议上，南方各州为了增加自己的众议员席位，要求把黑人奴隶和自由人一样，计算在人口总数中。南北双方经过激烈争论，达成黑人奴隶按五分之三计算的协议。作为交换，南方各州接受了按州总人口的比例向联邦所分摊的直接税。这一结果表明
- A. 南方各州在会议上居于优势 B. 南北方矛盾是会议唯一焦点
C. 宪法违背了天赋人权的精神 D. 妥协是现代政治的重要机制
35. 1875 年《法兰西第三共和国宪法》规定：总统签署的法令须经各部部长副署；内阁由总统任命，但需对议会负责，而总统在得到参议院同意后，可解散众议院。上述规定所体现的政治理念是
- A. 法律至上 B. 分权制衡 C. 人民主权 D. 议会主权

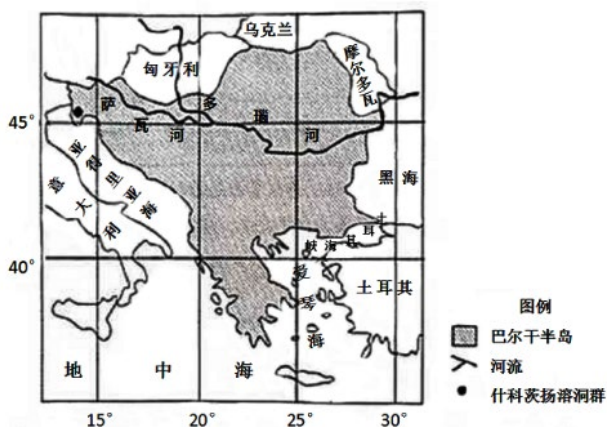
第 II 卷（非选择题 共 160 分）

二、非选择题：共 160 分。第 36~42 题为必考题，每个试题考生都必须作答。第 43~46 题为选考题，考生根据条件要求作答。

（一）必考题：共 135 分。

36. 阅读图文材料，完成下列要求。（22 分）

巴尔干半岛是欧洲南部三大半岛之一，占据十分重要的地理位置。什科茨扬溶洞群位于斯洛文尼亚，这里月降水量平均在 110-160mm 左右。夏季平均气温约为 21℃，冬季并不寒冷，平均气温为 -0.6℃。下图是巴尔干半岛及其周围地区地理位置示意图。



（1）描述巴尔干半岛的地理位置特征。（6分）

（2）说明什科茨扬溶洞群所属的地貌类型及形成原因。（8分）

（3）简述什科茨扬溶洞群的形成过程及对自然地理环境的不利影响。（8分）

37. 阅读图文材料，完成下列要求。（24 分）

大部分蔬菜品种不耐严寒和湿热，这种习性与各地气候条件结合，形成了蔬菜生产和供应的季节性“淡季”。上海 7 月-9 月是蔬菜供应的“夏淡”，12 月-次年 4 月为供应“冬淡”。为确保蔬菜供应，上海与海南、云南等省共建了蔬菜外延基地。上海“本地菜”多利用天然条件“露地种植”，通常“客地菜”在六七成熟时采摘，“本地菜”可以做到九成熟采摘。目前，低碳食品类（指生产、运输和消费环节中，耗能低、二氧化碳及其他温室气体排放量少的食品）蔬菜不仅得到政策的支持，而且也深受消费者的喜爱。

（1）从气候角度分析，上海蔬菜生产和供应，冬夏均为“淡季”的原因。（8 分）

（2）6 月-9 月海南岛蔬菜产量、质量均较低，为蔬菜供应淡季，试分析原因。（8 分）

（3）结合材料说明上海大力发展“露地种植蔬菜”的必要性。（8 分）

38. 阅读材料，回答下列问题。(14分)

今年以来，面对国内外风险挑战明显上升的复杂局面，党中央作出“积极的财政政策要更加积极有为”的重要决策。中央财政今年赤字率拟按3.6%以上安排，扩大专项债规模，发行抗疫特别国债，增加政府投资，有效支持惠民生、促消费、扩内需。同时加大减税降费力度，保就业、保基本民生、保市场主体。此外，大力优化财政支出结构，基本民生支出只增不减，重点领域支出切实保障，一般性支出坚决压减。今年的《政府工作报告》中提出“扩大有效投资，重点支持既促消费惠民生又调结构增后劲的‘两新一重’建设”，主要是：加强新型基础设施建设；加强新型城镇化建设，大力提升县城公共设施和服务能力，以适应农民日益增加的到县城就业安家需求；加强交通、水利等重大工程建设。

运用财政的知识，说明在扩大有效投资，支持“两新一重”建设方面，积极的财政政策应如何做到更加积极有为？(14分)

39. 阅读材料，回答下列问题。(12分)

党的十九届五中全会审议通过的《中共中央关于制定国民经济和社会发展第十四个五年规划和二〇三五年远景目标的建议》，这是开启全面建设社会主义现代化国家新征程、向第二个百年奋斗目标进军的纲领性文件，是今后五年乃至更长时间中国经济社会发展的行动指南。这次建议稿起草的一个重要特点是坚持发扬民主、开门问策、集思广益。

从今年3月成立文件起草组到文件通过7个月来，习近平总书记先后多次主持召开中央政治局常委会、政治局会议、起草组会议，企业家、科学家、各界代表座谈会，当面听取各方面对制定“十四五”规划的意见和建议，鼓励大家为“十四五”规划建言献策，研究审议规划建议稿的总体框架、基本思路、指导原则和重要内容。2020年8月16日至29日，“十四五”规划编制工作在网上征求意见，广大人民群众踊跃参与，网上留言有100多万条，有关方面从中整理出了1000多条意见建议。8月10日，建议稿下发党内一定范围征求意见，包括征求党内部分老同志意见，还专门听取了各民主党派中央、全国工商联负责人和无党派人士代表意见。最后提交党的十九届五中全会审议通过。

结合材料，分析“十四五”规划向社会广泛征求意见体现的政治学道理。(12分)

40. 阅读材料，回答下列问题。(26分)

2020年，上海浦东新区迎来开发开放30周年。30年的奋斗，浦东从一片滩涂之地，发展成为今日中国经济版图上闪亮的明珠。能取得如此辉煌的成绩，浦东一直在努力。

30年间，浦东承担的任务在不断化。20世纪90年代，浦东率先实现土地、资金等要素的市场化，形成较为稳定的市场环境。21世纪初，浦东新区率先进行国家综合配套改革试点，着力转变政府职能与经济运行方式。党的十八大以后，面临国内外发展环境的转变，在浦东建立了上海自贸区，探索我国对外开放的新模式。

30年间，浦东一直努力发挥“窗口作用、示范意义”。浦东要做“苗圃”而不做“盆景”，始终代表中国队在国际舞台争“金牌”，奋力站上“C位”，也让浦东样本可复制可推广。这“窗口”和“示范”，不断推高中国开放层次。

30年间，浦东一直以敢闯敢试改革开放精神，继续走在新时代发展的前列。这是浦东30年来发展繁荣最强劲、最根本的推动力，是决定未来能否实现既定目标的关键所在。

浦东开发开放走过“而立之年”，成就值得骄傲，未来更加可期。后疫情时代，浦东将大力推进文化强区战略。7月，举办了“浦东重点电竞游戏项目集中签约活动”，30个重点项目签约落地，将带动全区电竞游戏产业新增百亿营收。9月，“美术大师”评选活动也正式启动，意在通过树立“大国工匠”的标杆，培育和集聚一批尊崇工匠精神、高素质的美术人才，推动工艺美术产业蓬勃发展。目前，浦东正在着力打造“世界设计之都”，旨在通过创意与设计服务上海建设国际经济、金融、贸易中心，为把上海建设成为卓越全球城市做出贡献。

(1) 运用唯物辩证法的实质和核心的相关知识，分析上海浦东发展成为今日中国经济版图上闪亮的明珠的成功经验。(12分)

(2) 运用“文化的作用”的相关知识，说明未来浦东大力推进文化强区战略的意义？(10分)

(3) 借鉴浦东新区文化强区发展战略，就“后疫情时代，助推哈尔滨冰雪文化产业发展”提两条合理化建议。(4分)

41. 阅读材料，回答下列问题。(25分)

材料一

洪亮吉(1746—1809年)，中国著名人口学者，其思想主要体现在1793年撰写的《治平篇》中，(他)指出，“治平至百余年，可谓久矣。然言其户口，则视三十年以前增五倍焉，……视百年、百数十年以前不啻增二十倍焉。”清朝初年，“隙地未尽辟，闲廛未尽居也。”“或增三倍五倍而止矣，而户口则增至十倍二十倍，是田与屋之数常处其不足，而户与口之数常处其有余也。又况有兼并之家，一人据百人之屋，一户占百户之田……”关于人口问题的调整，他指出：“天地有法乎？曰：水旱疾疫，即天地调剂之法也；曰：君、相有法乎？曰：移民开荒、轻徭薄赋、禁其浮靡、折其兼并、开仓赈民，如是而已。”

——摘编自洪亮吉《治平篇》

材料二

马尔萨斯(1766—1834年)，英国著名人口学家，1798年，出版《人口原理》，指出：没有限制，人口是呈几何速率增长，而食物供应呈算术速率增长。当人口增长超过生活资料的增长时，就会发生贫困和罪恶。他认为“在一定时间内或长久地不结婚，并在独身期间性行为严格遵守道德规范……这是使人口同生活资料保持相适应并且完全符合道德和幸福要求的唯一方法。”“对人口增长的积极抑制包括以任何方式过早地缩短人的寿命的一切原因，例如不利身体健康的各种职业，繁重的劳动和长期在露天干活或生活、由于贫困引起的饥寒交迫、对儿童抚养不当、大城市和制造厂、一系列常见病和流行病、战争、鼠疫和饥荒。”

——摘编自马尔萨斯《人口原理》

(1) 根据材料一，概括洪亮吉关于人口问题的基本观点。(8分)

(2) 根据材料，在解决人口问题方面，洪亮吉和马尔萨斯的主张有何异同？结合所学知识分析其不同观点产生的原因。(17分)

42. 阅读材料，完成下列要求。(12分)

材料

16-19世纪欧洲重大政治事件简表

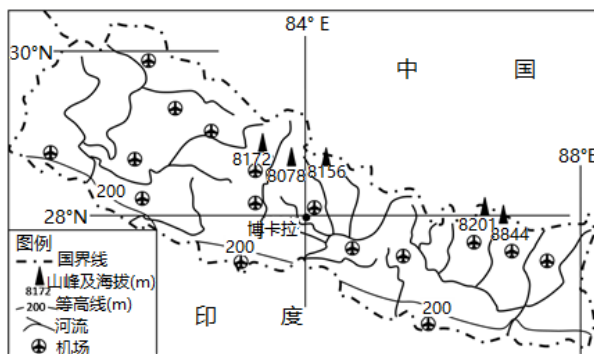
时间	事件
1534年	英国议会通过《至尊法案》
1581年	荷兰共和国成立
1640年	英国资产阶级革命爆发
1661年	法国路易十四改革
1740年	普鲁士腓特烈二世改革 奥地利特蕾西亚女皇改革
1789年	法国大革命爆发
1804年	法兰西第一帝国成立
1832年	英国议会改革
1848年	《共产党宣言》发表
1861年	俄国农奴制改革
1871年	德意志帝国成立，颁布《德意志帝国宪法》 法国巴黎公社运动
1875年	法国通过宪法，确立共和制

从材料中选取相互关联的历史事件，拟定一个主题，并加以论述。(要求：主题明确，表达准确，逻辑清晰，史论结合。)

(二) 选考题：共 25 分。请考生从 2 道地理题、2 道历史题中每科任选一题作答。如果多做，则每科按所做的第一题计分。

43. 【地理——选修：旅游地理】(10 分)

博卡拉是尼泊尔第二大城市，其位于海拔 900 米的喜马拉雅山河谷，是世界三大滑翔伞圣地之一，飞伞的配套设施完备。该城依偎在终年积雪的安娜普纳山峰和鱼尾峰下，傍着迷人的佩瓦湖，苍翠繁茂的植被和壮丽的雪山风光形成强烈对比。滑翔伞运动集旅游、娱乐和运动为一体，是一项日益火热的旅游活动项目，但是目前市场规模也很小。下图示意博卡拉的位置。



分析博卡拉成为滑翔伞圣地但市场规模小的原因。

44. 【地理——选修：环境保护】(10 分)

冰雾是由悬浮在空气中的大量微小冰晶组成的雾，又称冰晶雾。冰雾常见于严寒地区的冬季，由于近地气层温度很低（多在 -40°C 以下），加之静风环境，使空气中的水汽凝华而形成。冰雾形成中常伴有烟幕、一氧化氮和二氧化硫等有害物质，也是一种大气污染形式。下图为 1 月下旬我国内蒙呼伦贝尔市出现巨冷无比的冰雾天气，能见度不足 30 米。



分析呼市冰雾天气形成中有害气体易于聚集的原因并针对呼市冰雾的危害提出合理化建议。

45. [历史——选修1：历史上重大改革回眸]（15分）

材料

17世纪初，波旁王朝统治下的法国，尽管是欧洲的经济强国，但政府也不得不时常靠出卖官职来补贴国库的不足；封建大贵族和教会上层的势力仍然很强大，贵族叛乱和宗教战争始终困扰着法国，使法国经常处于动乱之中。1661年，法国国王路易十四开始亲自执政。一方面，他使用武力坚决镇压贵族的反叛；另一方面，采取怀柔政策，制服了封建割据势力。同时，路易十四向各省派驻“司法、警察和财政监督官”，建立了从中央到地方的完整的集权制国家体制，将所有权力牢牢地控制在国王一个人手里。着力整顿军备，扩充兵源，引进新式武器和先进技术，扩充陆军、创建了强大的海军。取消信仰新教的自由，全体臣民必须信奉天主教，致使20万胡格诺教徒背井离乡，使法国丧失大量技术人才。对外争夺欧洲霸权，拓展海外殖民地。经济上，推行重商主义政策。路易十四通过改革，把法国的封建专制制度推向顶峰。

——摘编自吴于廑 齐世荣主编《世界史·近代史》（上卷）等

（1）根据材料并结合所学知识，概括路易十四改革的背景。（6分）

（2）根据材料并结合所学知识，分析路易十四改革对法国资本主义发展的影响。（9分）

46. [历史——选修4：中外历史人物评说]（15分）

材料

贾谊（前200—前168），洛阳（今河南洛阳东）人，时称贾生，西汉著名的政论家。贾谊在其短暂的政治生活中，非常关心国家大事。贾谊以为，要解决分封制带来的矛盾，只有加强朝廷权力，提出“欲天下之治安，莫若众建诸侯而少其力”的主张，因为“力少则易使以义，国小则无邪心”。贾谊认为战争、和亲并不能制止匈奴侵扰，应采用儒法结合、用和平的手段瓦解敌人的策略，他向文帝要求承担制驭匈奴的任务。后来没有兑现。根据当时百姓弃农经商和经济不佳的实情与困境，提出了“积贮”与“驱民而归之农”的方针。贾谊以为自秦以来上下都淫侈贪利，不顾礼义廉耻，必须针对世风，而“移风易俗，使天下回心而向道”，就是要使逐利转向为义，以礼义教太子，以礼义待君子，才能使政权兴而不亡。

——摘编自白寿彝主编《中国通史》等

（1）根据材料，概括贾谊的主张。（8分）

（2）根据材料并结合所学知识，简析贾谊主张的意义。（7分）